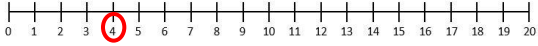


# Optellen over het tiental

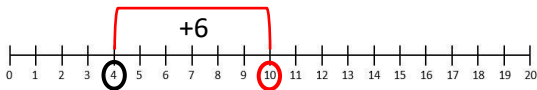
1.  $4 + 9 =$   
 $\wedge$

Zet een rondje om het startgetal.



2.  $4 + 9 =$   
 $\wedge$   
6

Spring naar het tiental.

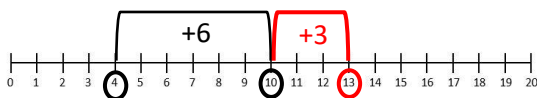


3.  $4 + 9 =$   
 $\wedge$   
6 3

Splits het getal dat eraf gaat.

4.  $4 + 9 =$   
 $\wedge$   
6 3

Spring het getal dat overblijft verder, zet een rondje om het getal waar je uitkomt.



5.  $4 + 9 = 13$   
 $\wedge$

Het getal waar je uitkomt, dit is het antwoord.

